



CONCOURS COMMUNS POLYTECHNIQUES

EPREUVE SPECIFIQUE - FILIERE PSI

SCIENCES INDUSTRIELLES (S.I.)

Durée : 4 heures

N.B. : Le candidat attachera la plus grande importance à la clarté, à la précision et à la concision de la rédaction. Si un candidat est amené à repérer ce qui peut lui sembler être une erreur d'énoncé, il le signalera sur sa copie et devra poursuivre sa composition en expliquant les raisons des initiatives qu'il a été amené à prendre.

Les calculatrices sont autorisées

Le sujet complet comporte 32 pages dont :
16 pages de texte de présentation et énoncé du sujet
12 pages d'annexes
4 pages de document réponse **à rendre obligatoirement avec la copie**

Toute documentation autre que celle fournie est interdite.

REMARQUES PRÉLIMINAIRES

- Il est conseillé d'utiliser des feuilles de papier brouillon afin de mettre au point les développements mathématiques, schémas, graphes et courbes, avant de les recopier au propre sur la copie rendue.
- Il est demandé au candidat de bien vouloir inscrire les résultats et les développements nécessaires aux différentes questions sur sa copie, **en précisant bien le numéro de la question traitée et, si possible, dans l'ordre des questions.** Les résultats attendus seront obligatoirement entourés.

SYSTÈME DE LEVAGE À MULTIPLES COLONNES

Les sociétés de transports publics des grandes agglomérations gèrent des réseaux comportant des bus et/ou des tramways. Ces sociétés possèdent des centres de maintenance ayant en charge l'entretien et la réparation de leurs véhicules. Parmi ces véhicules, on peut trouver des tramways de deux types : sur rails ou sur pneus. On s'intéresse ici à la maintenance de tramways sur rails de type TFS (Tramway Français Standard) : voir Annexe 1 photo 1.

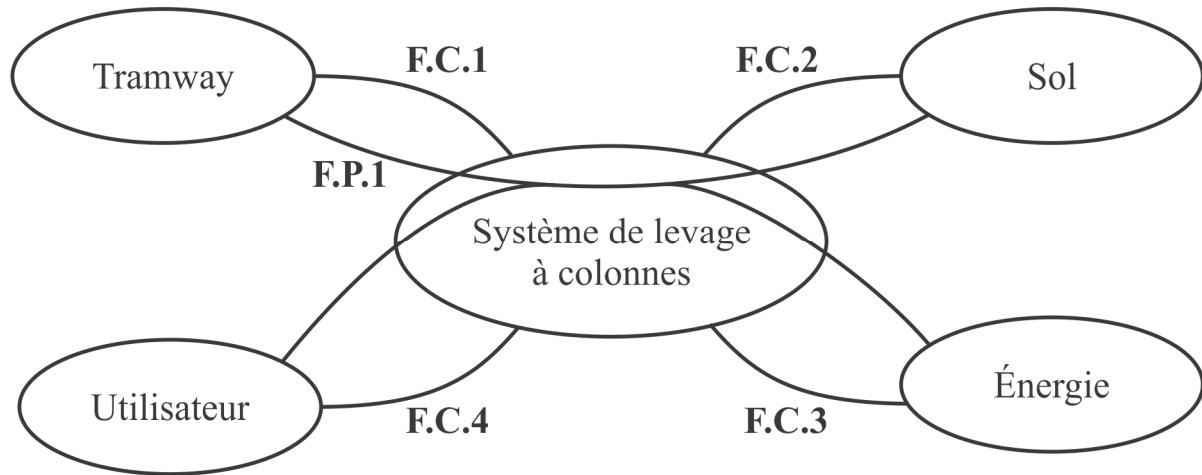
Les rames TFS sont dotées d'un plancher bas, à 35 cm au-dessus du sol, sur les 3/4 de leur longueur. Dans le cadre d'une opération de maintenance, il est nécessaire d'intervenir sous le tramway et donc de le soulever entièrement.

***Problématique** : comment soulever une rame de tramway de 45 tonnes et de 30 mètres de long à une hauteur suffisante (de l'ordre de 1m70) pour réaliser la maintenance des boggies et divers matériels se trouvant sous le tramway ?*

Le système de levage est constitué d'une armoire de commande (nommée PC) munie d'un pupitre de commande, d'un API (Automate Programmable Industriel), de relais et cartes de commande pour moteurs. Cette PC peut gérer jusqu'à 10 colonnes de levage. Ces colonnes de levage (voir Annexe 1 photos 2 à 6) sont des unités indépendantes mobiles que l'on peut déplacer manuellement grâce à des roues escamotables. Elles sont constituées d'un chariot de levage (voir **Modèle numérique de la colonne** en Annexe 1) guidé par 4 galets roulant à l'intérieur d'une colonne (rails en tôle pliée). L'entraînement du chariot se fait par une vis à filet trapézoïdal (voir Annexe 1 photo 6), mise en rotation par un moto-réducteur-frein asynchrone. On met en place les colonnes au niveau de la plateforme du tramway à soulever, aux endroits prévus à cet effet.

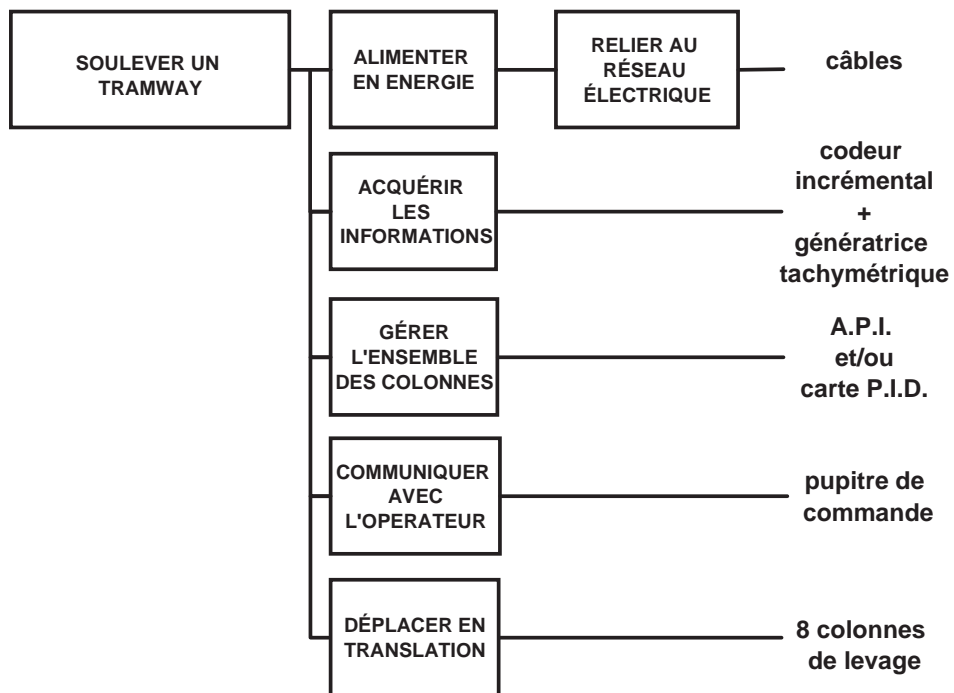
Pour soulever un tramway de 45 tonnes et de 30 mètres de long, le service de maintenance utilise 8 colonnes de levage d'une capacité unitaire maximale de 8,2 tonnes commandées simultanément (voir Annexe 1 photos 2 à 5). Lorsque les colonnes sont en place, on démarre le cycle de levage : l'opérateur peut choisir un fonctionnement manuel ou automatique. En mode automatique, on affiche sur le pupitre la consigne de hauteur à atteindre, la PC pilote alors chaque moteur des 8 colonnes jusqu'à ce que cette hauteur soit atteinte. Chaque colonne est équipée d'un codeur incrémental informant la PC de la position du chariot de levage de la colonne. Pour un fonctionnement en toute sécurité, il faut assurer une certaine horizontalité du tramway soulevé : l'ensemble des points de levage doit être compris entre deux plans parallèles distants de 20 mm au maximum (coplanéité).

DIAGRAMME PARTIEL DES INTER-ACTEURS
EN PHASE D'UTILISATION MONTÉE-DESCENTE

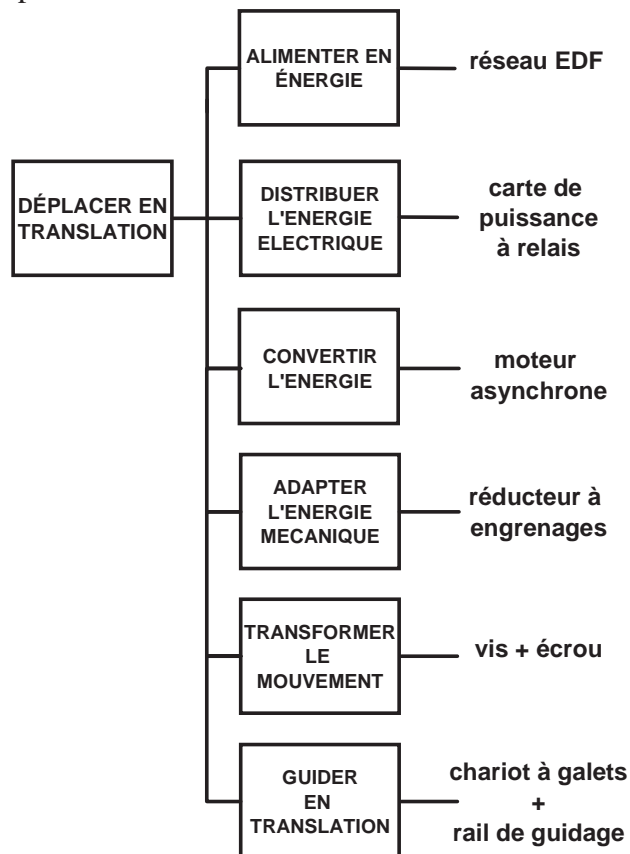


<u>FONCTIONS DE SERVICE</u>	<u>CRITÈRES</u>	<u>NIVEAUX</u> <i>Pour UNE colonne</i>
F.P.1 : PERMETTRE À UN OPÉRATEUR DE SOULEVER UN TRAMWAY DU SOL GRÂCE À DE L'ÉNERGIE ÉLECTRIQUE	HAUTEUR MAXI VITESSE MAXI CHARGE MAXI	1700 mm 10 mm/s 8,2 tonnes
F.C.1 : S'ADAPTER À LA PLATEFORME DU TRAMWAY	COPLANÉITÉ DES POINTS DE LEVAGE SURFACE D'APPUI AU CONTACT DE LA PLATEFORME	Écart maximum de 20 mm 140 x 140 mm ²
F.C.2 : ÊTRE STABLE MÉCANIQUEMENT	SURFACE D'APPUI AU SOL RÉSISTANCE MÉCANIQUE DU SOL (pression de contact maxi)	2 pieds de 600 x 200 mm ² P _{adm} = 8 MPa
F.C.3 : ÊTRE ALIMENTÉ	TENSION DE PUISSANCE TENSION DE COMMANDE	230 - 400 V alternative, 50 - 60 Hz 24 V continu
F.C.4 : ASSURER LA SÉCURITÉ DE L'OPÉRATEUR	VITESSE DE DESCENTE HORS ÉNERGIE	Nulle

Le développement sous forme de FAST de la fonction principale F.P.1 (plus simplement écrite « Soulever un tramway ») est donné ci-après :



Le développement sous forme de FAST de la fonction technique « Déplacer en translation » pour une colonne est donné ci-après :



Afin de vérifier les performances du système, on propose le plan d'étude suivant :

Analyse du système de levage : question Q1

A – Vérification de quelques critères de la F.P.1 : soulever un tramway

A1 - Vérification du critère de charge maximale : *questions Q2 et Q3*

A2 - Dimensionnement du moteur électrique : *questions Q4 à Q8*

B – Vérification du critère de la F.C.2 : être stable mécaniquement

B1 - Vérification du critère de non basculement (stabilité mécanique) : *question Q9*

B2 - Vérification du critère de pression maximale au sol : *question Q10*

C – Étude du critère de coplanéité

C1 - Justification du pilotage des moteurs (F.C.1) : *question Q11*

C2 - Étude (partielle) d'un modèle de commande séquentielle (F.C.1) : *questions Q12 à Q16*

C3 - Étude (partielle) d'un modèle de commande continue (F.P.1 et F.C.1) : *questions Q17 à Q21*

Il sera tenu compte de la présentation.

ANALYSE DU SYSTÈME DE LEVAGE

Q1 :

a - Compléter sur le document réponse DR1 le diagramme représentant l'architecture de la chaîne d'information et de la chaîne d'énergie du système de levage étudié.

b - Compléter sur le document réponse DR2 le schéma cinématique minimal 3D d'une colonne de levage.

A – Vérification de quelques critères de la F.P.1 : soulever un tramway

A1 - Vérification du critère de charge maximale

Objectif : *déterminer la valeur de la charge soulevée par chaque colonne.*

On rappelle que pour soulever une rame complète de tramway, on utilise 8 colonnes, soit 4 colonnes réparties identiquement de chaque côté du tramway. Le tramway est un véhicule articulé constitué de six éléments (voir Annexe 2 figure 1) ayant des masses différentes. Ainsi, chaque colonne ne soulèvera pas la même charge. L'étude suivante consiste à déterminer la charge soulevée par chaque colonne, donnée essentielle à connaître afin de régler les paramètres de commande de ces unités de levage.

Modèle retenu : (voir impérativement la figure 2 de l'Annexe 2).

1. Système isolé : tramway complet.
2. Le plan (G_3, \vec{x}, \vec{z}) étant plan de symétrie pour les efforts et la géométrie, on se limite à une étude plane. Le vecteur unitaire \vec{y} est vers l'arrière du dessin.
3. Les diverses actions mécaniques dues à la pesanteur (on prendra $g = 9,81 \text{ m/s}^2$) sont modélisées par des glisseurs de résultantes $\vec{P}_i = P_i \cdot \vec{z}$ aux centres de gravité G_i des six éléments différents.
4. Les actions mécaniques dues aux colonnes de levage sont modélisées par des glisseurs de résultantes $\vec{F}_i = F_i \cdot \vec{z}$ aux points de levage L_1, L_2, L_3 et L_4 .
5. Les voitures motrices $V1$ et $V2$ sont articulées (liaisons sphériques) respectivement aux points A_1 et A_2 avec la voiture d'articulation centrale $V3$.
6. L'action mécanique due à une articulation entre deux voitures i et j sera modélisée par un glisseur de résultante $\vec{R}_{i \rightarrow j}$ au centre de l'articulation.

Données géométriques :

$$\begin{aligned} \overline{L_1 G_{m1}} \cdot \vec{x} = \overline{G_{m2} L_4} \cdot \vec{x} = 1980 \text{ mm} ; \overline{L_1 G_1} \cdot \vec{x} = \overline{G_2 L_4} \cdot \vec{x} = 5510 \text{ mm} ; \overline{L_1 L_2} \cdot \vec{x} = \overline{L_3 L_4} \cdot \vec{x} = 12505 \text{ mm} \\ \overline{L_1 A_1} \cdot \vec{x} = \overline{A_2 L_4} \cdot \vec{x} = 13280 \text{ mm} ; \overline{A_1 A_2} \cdot \vec{x} = 3300 \text{ mm} ; \overline{A_1 G_3} \cdot \vec{x} = \overline{A_1 G_{p3}} \cdot \vec{x} = 1650 \text{ mm} \end{aligned}$$

Nota Bene : Le plan (G_3, \vec{y}, \vec{z}) étant aussi plan de symétrie pour les efforts et la géométrie, on se limite à l'étude des deux voitures (avec leurs boggies) $\{V1, Bm1\}$ et $\{V3, Bp3\}$.

Q2 : Dessiner sur le document réponse DR2 les vecteurs représentant les actions mécaniques extérieures (en phase de levage) agissant sur les deux voitures isolées (avec boggies) $\{V1, Bm1\}$ et $\{V3, Bp3\}$ en respectant directions et sens.

Q3 : Exprimer les actions mécaniques des colonnes de levage en L_1 et L_2 , en fonction des grandeurs géométriques et des poids des différents éléments du tramway. Calculer ces actions mécaniques. (Chacune de ces actions est supportée identiquement par deux colonnes).

A2 - Dimensionnement du moteur électrique

Objectif : valider le dimensionnement du moteur (couple, vitesse, puissance) en régime nominal et en phase d'accélération.

L'objectif est de valider que le moteur proposé correspond aux impératifs de couple et de vitesse imposés par le cahier des charges. Les éléments importants à respecter sont :

- « la masse maximale à soulever est de 6 tonnes, soit 6000 kg, inférieure à la capacité maximale ».
- « la vitesse de levée doit être de 10 mm/s, soit 0,010 m/s ».
- « la phase d'accélération ne doit pas excéder 0,5 s ».

Lors de la conception, plusieurs technologies ont été étudiées, que ce soit au niveau de la motorisation ou de la commande (étudiée dans la partie C).

La solution retenue concernant la chaîne de transmission de puissance est décrite en Annexe 2 sur les figures 3 et 4 qui présentent le modèle d'étude utilisé et certaines données techniques.

Le moteur choisi est un moteur asynchrone de type LS100L, d'une puissance de 2,2 kW, équipé d'un frein FCR J02 (voir Annexe 2 figure 5).

Q4 : Compte tenu du paramétrage on peut écrire : $\overrightarrow{\Omega_{1/0}} = \omega_{10} \overrightarrow{X_0} = \dot{\theta}_1 \overrightarrow{X_0}$.

a - Exprimer de manière littérale, en fonction du paramètre $\dot{\theta}_1$, et des données concernant les roues dentées et le système vis-écrou, les vecteurs vitesse de rotation $\overrightarrow{\Omega_{2/0}}$, $\overrightarrow{\Omega_{3/0}}$ et la vitesse de levée $V_L = \dot{z}_4$.

Déterminer numériquement les rapports entre les vitesses $r_{12} = \frac{\omega_{20}}{\omega_{10}}$, $r_{23} = \frac{\omega_{30}}{\omega_{20}}$, $r_{34} = \frac{V_L}{\omega_{30}}$ et $r_g = \frac{V_L}{\omega_{10}}$ (les vitesses de rotation étant exprimées en rad/s et la vitesse linéaire en m/s).

Quelle que soit la valeur trouvée pour r_g , la valeur utilisée dans la suite du sujet sera :

$$r_g = 6,36 \times 10^{-5} \text{m.}$$

b - Déterminer la vitesse de rotation du moteur souhaitée (à exprimer en tr/min) conformément au cahier des charges. Conclure en comparant la valeur trouvée avec la vitesse nominale du moteur (voir Annexe 2 figure 5).

Q5 : L'énergie cinétique d'un solide S_i en mouvement par rapport à un repère R_j sera notée T_{ij} .

a - Déterminer les expressions littérales des énergies cinétiques des différents solides du système S (arbre 1, arbre 2, vis 3, chariot 4, masse 5) en mouvement par rapport au repère galiléen R_0 , en fonction des données cinétiques fournies (voir Annexe 2 figure 4), des rapports r_{ij} et du paramètre $\dot{\theta}_1$.

b - Montrer, en vous appuyant sur les valeurs numériques proposées, que les énergies cinétiques des solides 2, 3, 4 et 5 sont négligeables devant l'énergie cinétique du solide 1.

c - Déterminer littéralement et numériquement le rendement global du système, noté η_g , en fonction des différents rendements.

d - Déterminer l'expression de la puissance perdue dans les liaisons en fonction de la puissance motrice P_m et du rendement global η_g .

Dans la suite du problème, on négligera les énergies cinétiques des solides 2, 3, 4 et 5 devant l'énergie cinétique du solide 1 et l'influence de la masse M_4 (21,7 kg) devant la masse M_5 (6000 kg). La valeur de l'accélération de la pesanteur g sera prise égale à $9,81 \text{ m/s}^2$.

Q6 : Déterminer l'expression littérale du couple moteur C_m en fonction de $\ddot{\theta}_1$.

Q7 : Phase de montée à vitesse constante

a - Déterminer l'expression de C_m et sa valeur numérique lors d'une montée à vitesse constante.

b - Comparer cette valeur avec celle du « moment nominal M_N » fournie dans la documentation du moteur (voir Annexe 2 figure 5).

c - Quelle serait alors la vitesse de rotation du moteur (exprimée en tr/min) et la vitesse de levée (exprimée en m/s) ? Conclure quant à la pertinence du choix du moteur pour cette phase.

Q8 : Phase de démarrage

Lors de la phase de démarrage, on peut admettre que le couple moteur a la valeur du « moment de démarrage M_D » donnée par la documentation (voir Annexe 2 figure 5, qui donne la valeur du rapport entre le moment de démarrage M_D et le moment nominal M_N).

a - Déterminer, lors de la phase de démarrage, la relation numérique entre le couple C_m et l'accélération angulaire de l'arbre moteur (exprimée en rad/s^2).

b - Déterminer la durée de la phase d'accélération. Conclure quant à la pertinence du choix du moteur pour cette phase.

B – Vérification du critère de la F.C.2 : être stable mécaniquement

B1 - Vérification du critère de non-basculement (stabilité mécanique)
--

Objectif : vérifier le NON-BASCULEMENT d'une colonne dans le plan yOz .

La stabilité mécanique de la colonne doit être assurée, quelle que soit la charge à soulever, afin de respecter la fonction complémentaire F.C.2.

Le modèle retenu pour cette étude est le suivant :

(Voir Annexe 2 figures 6 et 7).

1. Système isolé : colonne entière.
2. Le plan yOz est plan de symétrie pour les efforts et la géométrie.
3. Le poids des éléments de la colonne est négligé par rapport à la charge à soulever.
4. L'action de contact sol/colonne est modélisée par une répartition de pression $q(y)$ variant linéairement entre q_1 et q_2 pour $y \in [e, e + L]$, et restant uniforme selon x , comme indiqué sur les figures 6 et 7. L'unité de $q(y)$ est le MPa .
5. La charge à soulever est modélisée par un glisseur $\overrightarrow{F_{T \rightarrow C}}$ dont le support passe par le point P situé à la distance d de l'axe Oz de la vis du chariot.

Q9 : Déterminer, sans faire de calculs, les 2 valeurs extrêmes d_{min} et d_{max} que peut prendre la distance d , garantissant la stabilité de la colonne dans le plan yOz . Justifier.

B2 - Vérification du critère de pression maximale au sol

Objectif : vérifier le critère P_{adm} de non dépassement de la résistance mécanique du sol.

Données géométriques : $L = 600$ mm ; $b = 200$ mm ; $d = 480$ mm ; $e = 110$ mm

Charge à soulever : $F_{T \rightarrow C} = 60\,000$ N

Q10 : Par application du principe fondamental de la statique à la colonne en O défini par $\vec{HO} = -a\vec{x} + e\vec{y}$, déterminer la valeur de la pression de contact maximale P_{max} entre les pieds et le sol. Conclure.

Nota Bene : pour l'application du théorème du moment statique en O , seule la projection sur l'axe $O\vec{x}$ est utile pour cette étude de basculement dans le plan yOz .

C – Étude du critère de coplanéité

C1 - Justification du pilotage des moteurs (F.C.1)

Objectif : justifier la nécessité de piloter la commande du moteur au cours du mouvement.

La masse soulevée par chaque colonne varie en fonction du point de levage. Le couple moteur sera donc différent d'une colonne à l'autre, d'autant que les rendements peuvent être aussi différents d'une colonne à l'autre, car les conditions de fonctionnement ne sont pas identiques.

Une étude plus complète et une série de mesures permettent d'estimer les couples moteurs extrêmes : pour la colonne la plus sollicitée (que l'on désignera par C_1) le couple moteur a pour valeur 14,5 N.m et pour la colonne la moins sollicitée (que l'on désignera par C_2) le couple moteur a pour valeur 7 N.m.

Ces différences de couples vont engendrer des différences de vitesses car, sans mode de pilotage spécifique, la vitesse de rotation du moteur est liée au couple (voir Annexe 2 figure 5). Or, une des conditions du cahier des charges portant sur l'écart maximal de hauteur qui doit exister entre 2 points de levage quelconques au cours du mouvement, se traduit par le fait qu'il ne doit pas exister un écart supérieur à 10 mm entre 2 colonnes.

Lorsque cet écart atteint cette valeur, et sans pilotage particulier des moteurs, il convient d'arrêter la colonne qui est « en avance », tout en laissant continuer la colonne « en retard ». Un certain nombre d'arrêts et de démarrages vont être demandés au moteur de la colonne qui est « en avance ». Or, les démarrages consomment beaucoup d'énergie et les moteurs classiques ne peuvent supporter trop de démarrages dans un temps réduit. Le nombre de démarrages du moteur proposé ne doit pas être supérieur à un démarrage par minute, afin que sa durée de vie soit satisfaisante.

Q11 :

a - A partir de la courbe caractéristique couple/vitesse fournie Annexe 2 figure 5, déterminer les vitesses de rotation des moteurs des colonnes C_1 et C_2 (exprimées en tr/min) et les vitesses de levée des colonnes C_1 et C_2 (exprimées en m/s).

b - Déterminer pour quelle hauteur, et au bout de combien de temps, l'écart de position serait égal à la valeur autorisée par le cahier des charges. Quel est le nombre de démarrages qui correspond à une hauteur maximale de levée de 1,5 m. Conclure.

C2 et C3 – Étude de la commande du système

Objectifs : satisfaire au critère de vitesse de la fonction F.P.1, et au critère de coplanéité des points de levage de la fonction F.C.1.

L'étude proposée est simplifiée : la prise en compte de la sécurité est très partielle et la commande des moteurs n'est pas détaillée (commande du frein, démarrage, protection thermique).

Problématique : comment garantir un écart maximum entre deux points de levage sachant que :

- l'étude statique montre que les charges sont différentes sur les colonnes de levage, ce qui implique des différences de vitesse, et donc des écarts de position au cours du mouvement ;
- les tolérances sur les différents composants constitutifs et des conditions de lubrification différentes impliquent des comportements légèrement différents des colonnes.

Le système existe dans deux versions :

- l'une, pilotée en logique séquentielle, bien adaptée aux structures complexes, mais qui conduit à des arrêts et démarrages fréquents des moteurs et donc à un risque pour les moteurs et à une surconsommation d'énergie ;
- l'autre, à commande asservie, qui conduit à une structure complexe pour la commande simultanée de l'ensemble des moteurs, mais qui évite les arrêts et démarrages fréquents.

Éléments du cahier des charges (certaines valeurs sont différentes de celles retenues pour les études précédentes)

L'étude est conduite pour des rames d'une longueur de 30 m et une masse de 45 tonnes, comportant 3 tronçons ce qui implique l'utilisation simultanée de 8 unités de levage. La charge par unité est comprise entre 5,2 et 6 tonnes. Le temps de levage doit être d'environ 3 minutes pour 1500 mm.

Deux modes de marche sont prévus :

- marche automatique pour atteindre des positions prédéfinies correspondant à des opérations d'entretien particulières, changement de boggies par exemple ;
- marche manuelle pour un positionnement à la demande. Pour ce mode de marche, les alternances « marche-arrêt » étant fréquentes, il est possible d'envisager une commande en trapèze de vitesse pour éviter les secousses et ménager les moteurs.

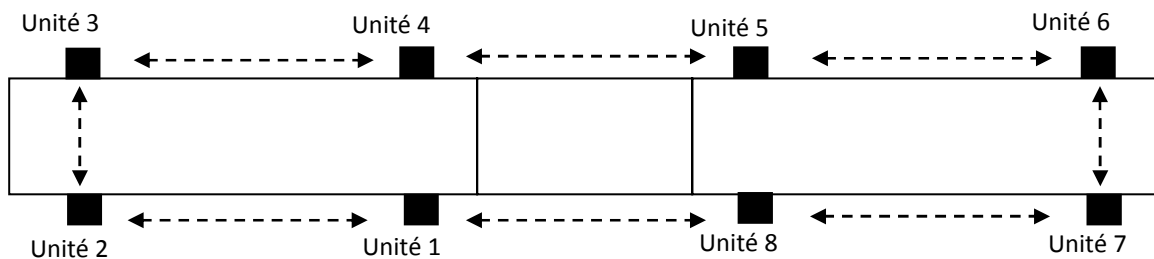
Étant donné le faible rotulage possible dans les liaisons entre les différents tronçons du tramway, l'ensemble des niveaux des colonnes doit constamment être compris entre deux plans distants de 20 mm.

La sécurité du personnel doit être maximale et les risques d'endommager le matériel doivent être minimisés. La sécurité est gérée globalement au niveau du grafcet de surveillance.

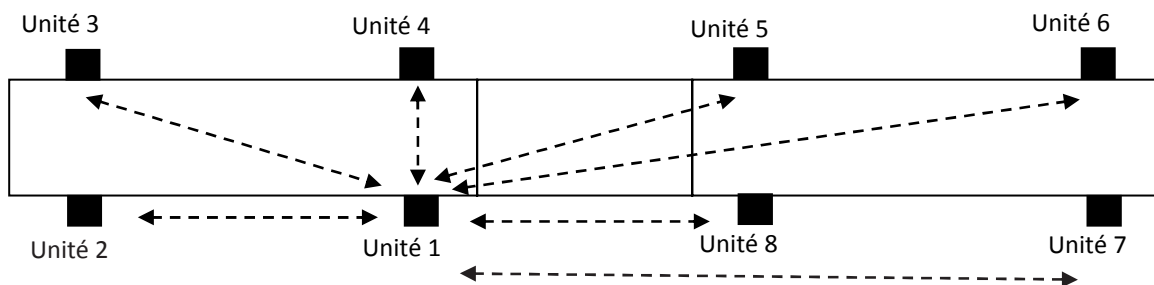
Indépendamment du mode de commande, pour réaliser l'iso-nivelage, il faut comparer entre eux les niveaux atteints par chaque colonne. Plusieurs méthodes pour obtenir ce résultat sont possibles :

- comparer en temps réel les niveaux de l'ensemble des colonnes pour limiter la vitesse ou arrêter les moteurs des unités dont le niveau dépasse d'une certaine valeur, celle de l'unité la plus basse.
- comparer les niveaux des colonnes deux à deux :
 - o soit en boucle ;
 - o soit en étoile, en utilisant une colonne comme référence.

Comparaison en boucle



Comparaison en étoile par rapport à l'unité 1



La première méthode nécessite l'utilisation de modèles de commande plus complexes que la deuxième. La deuxième méthode autorise un écart plus important entre deux colonnes, et permet éventuellement de l'individualiser. C'est cette deuxième méthode qui a été retenue par le fabricant.

Q12 : *Proposer un écart de hauteur maximum (entre deux colonnes comparées) pour la structure en étoile afin de respecter le cahier des charges.*

Pour des raisons de sécurité, on prendra pour la suite un écart maximum de **5 mm**, et les études porteront sur la structure en étoile, plus simple.

C2 – Étude (partielle) d'un modèle de commande séquentielle (F.C.1)

Cette étude porte sur une structure en étoile :

Les colonnes sont numérotées de 1 à 8 et l'unité numérotée 1 est prise comme référence.

L'écart de niveau entre la colonne 1 et chacune des autres colonnes devra rester inférieur à 5 mm.

Le pupitre de commande comporte notamment (les variables binaires associées sont entre parenthèses) :

- un arrêt d'urgence (**arup**) ;
- un sélecteur à 3 positions, la valeur 1 ne peut être assignée qu'à une seule des 3 variables :
 - o mode automatique (**aut**),
 - o mode manuel (**man**),
 - o mise en référence des unités (**ref**) ;
- un sélecteur montée-descente (**mont, desc**) : la valeur 1 ne peut être assignée aux deux variables simultanément ;
- un bouton poussoir de marche (**m**) qui sert soit au départ d'un cycle automatique, soit à la commande manuelle de montée-descente, soit au départ de la mise en référence.

Les colonnes sont équipées (les variables binaires associées sont entre parenthèses) :

- d'un moteur-frein asynchrone triphasé car il faut deux sens de marche (**Mi+** pour monter et **Mi-** pour descendre) ;
- de capteurs de fin de course haut (**fch_i**) et bas (**fcb_i**) ;
- d'un capteur incrémental (**c_i**) ;
- d'un capteur d'effort (**ef_i**) ;
- d'un bouton d'arrêt d'urgence (**aru_i**).

Description du fonctionnement :

Avant le soulèvement d'une rame, l'ensemble des unités doit être mis en référence. Pour cela, on installe les huit colonnes aux endroits prévus. Les becs d'appui de toutes les colonnes sont mis en contact avec les points de soulèvement de la rame. La mise en référence est obtenue dès que les huit variables binaires **ef_i** prennent la valeur 1 (Voir Annexe 2 figure 8, le grafctet de mise en référence **GR**).

Dans le cas de huit colonnes, structure en étoile, il est nécessaire d'avoir huit compteurs : un pour une information de niveau de la colonne 1, et sept pour les comparaisons de niveaux des autres colonnes.

Pour les niveaux, huit capteurs incrémentaux fournissent des informations **c_i**, où *i* est le numéro de la colonne. Chaque front montant de **c_i** (noté **↑c_i**) indique une variation de niveau de 1 mm.